

JUNIO DE 2014. PROBLEMA A1.

Estudia el siguiente sistema de ecuaciones lineales dependiente del parámetro real a y resuélvelo en los casos en que es compatible:

$$\begin{cases} (a-1)x+(a+2)y=5 \\ (1-a)x+(-1-a)y+2z=-4 \\ y+(a^2+a)z=2-a \end{cases} \quad (3 \text{ PUNTOS})$$

Aplicamos el método de Gauss:

$$\left(\begin{array}{ccc|c} a-1 & a+2 & 0 & 5 \\ 1-a & -1-a & 2 & -4 \\ 0 & 1 & a^2+a & 2-a \end{array} \right) \stackrel{1}{\sim} \left(\begin{array}{ccc|c} a-1 & a+2 & 0 & 5 \\ 0 & 1 & 2 & 1 \\ 0 & 1 & a^2+a & 2-a \end{array} \right) \stackrel{2}{\sim} \left(\begin{array}{ccc|c} a-1 & a+2 & 0 & 5 \\ 0 & 1 & 2 & 1 \\ 0 & 0 & a^2+a-2 & 1-a \end{array} \right) \stackrel{3}{\rightarrow}$$

$$\rightarrow \begin{cases} a-1=0 \Rightarrow a=1 \\ a^2+a-2=0 \Rightarrow a = \frac{-1 \pm \sqrt{1+8}}{2} = \frac{-1 \pm 3}{2} \Rightarrow a=-2, a=1 \end{cases}$$

Estudiamos los distintos casos:

1º) Si $a=-2$, el sistema es incompatible:

$$\left(\begin{array}{ccc|c} -3 & 0 & 0 & 5 \\ 0 & 1 & 2 & 1 \\ 0 & 0 & 0 & 3 \end{array} \right)$$

2º) Si $a=1$, el sistema es compatible indeterminado y la solución depende de un parámetro:⁴

$$\left(\begin{array}{ccc|c} 0 & 3 & 0 & 5 \\ 0 & 1 & 2 & 1 \\ 0 & 0 & 0 & 0 \end{array} \right) \stackrel{5}{\sim} \left(\begin{array}{ccc|c} 0 & 1 & 2 & 1 \\ 0 & 3 & 0 & 5 \\ 0 & 0 & 0 & 0 \end{array} \right) \stackrel{6}{\sim} \left(\begin{array}{ccc|c} 0 & 1 & 2 & 1 \\ 0 & 0 & -6 & 2 \\ 0 & 0 & 0 & 0 \end{array} \right) \rightarrow$$

$$\rightarrow \begin{cases} y+2z=1 \\ -6z=2 \end{cases} \Rightarrow \begin{cases} y=1-2z \\ z=-1/3 \end{cases} \Rightarrow \begin{cases} x=\alpha \\ y=5/3 \\ z=-1/3 \end{cases}$$

3º) En los demás casos el sistema es compatible determinado:

$$\begin{cases} (a-1)x+(a+2)y=5 \\ y+2z=1 \\ (a-1)(a+2)z=-(a-1) \end{cases} \Rightarrow \boxed{z = \frac{-1}{a+2}} \Rightarrow y=1-2z=1+\frac{2}{a+2} \Rightarrow \boxed{y = \frac{a+4}{a+2}} \Rightarrow$$

$$\Rightarrow (a-1)x=5-(a+2)y=5-(a+2) \cdot \frac{a+4}{a+2}=5-a-4=1-a=-(a-1) \Rightarrow \boxed{x=-1}$$

¹ $2^a f + 1^a f$.

² $3^a f - 2^a f$.

³ Como no se puede dividir por cero, tenemos que calcular los valores del parámetro que anulan los coeficientes de las incógnitas que tenemos que despejar luego (caso 3º).

⁴ Ya que el número de incógnitas menos el número de ecuaciones fundamentales es 1.

⁵ $1^a f \leftrightarrow 2^a f$.

⁶ $2^a f - 3 \cdot 1^a f$.

JUNIO DE 2014. PROBLEMA A2.

Encuentra la ecuación continua de la recta r que pasa por el punto $P(2,3,-1)$ y es paralela a los planos $\pi_1 \equiv 2x - y + 3z - 1 = 0$ y $\pi_2 \equiv x + y - 2z + 3 = 0$.

Encuentra el punto $Q \in r$ que está en el plano $x=0$.

(2 PUNTOS)

a) Como el plano π_1 es paralelo a la recta r , el vector característico del plano, $\vec{u}(2, -1, 3)$, es perpendicular a la recta.

Como el plano π_2 es paralelo a la recta r , el vector característico del plano, $\vec{v}(1, 1, -2)$, es perpendicular a la recta.

Por tanto, un vector direccional de la recta r es:

$$\vec{u} \wedge \vec{v} = \begin{vmatrix} \vec{i} & \vec{j} & \vec{k} \\ 2 & -1 & 3 \\ 1 & 1 & -2 \end{vmatrix} = -\vec{i} + 7\vec{j} + 3\vec{k}$$

Como la recta r pasa por el punto $P(2, 3, -1)$, su ecuación continua es:¹

$$r \equiv \frac{x-2}{-1} = \frac{y-3}{7} = \frac{z+1}{3}$$

b) Las ecuaciones paramétricas de la recta r son:

$$r \equiv \frac{x-2}{-1} = \frac{y-3}{7} = \frac{z+1}{3} = \alpha \Rightarrow \begin{cases} x=2-\alpha \\ y=3+7\alpha \\ z=-1+3\alpha \end{cases}$$

Por tanto, como Q es un punto de la recta r , $Q(2-\alpha, 3+7\alpha, -1+3\alpha)$. Y como está en el plano $x=0$, satisface su ecuación:

$$2-\alpha=0 \Rightarrow \alpha=2 \Rightarrow Q(0, 17, 5)$$

¹ Otras formas de hacer este problema pueden verse, por ejemplo, en el ejercicio 8 del Examen Final del curso 2007-2008, en *Exámenes*, en este mismo *blog*.

JUNIO DE 2014. PROBLEMA A3.

Calcula las siguientes integrales:

$$\int \frac{dx}{x^2-x}$$

$$\int x \cdot \text{sen}(2x) \cdot dx$$

(2 PUNTOS)

a) Como se trata de una integral racional, calculamos las raíces del denominador:

$$x^2-x=0 \Rightarrow x(x-1)=0 \Rightarrow x=0, x=1$$

Por tanto:¹

$$\frac{1}{x^2-x} = \frac{1}{x(x-1)} = \frac{A}{x} + \frac{B}{x-1} = \frac{A(x-1)+Bx}{x(x-1)} \Rightarrow$$

$$\Rightarrow 1=A(x-1)+Bx \Rightarrow \begin{cases} \text{Si } x=0 \Rightarrow 1=-A \Rightarrow A=-1 \\ \text{Si } x=1 \Rightarrow 1=B \Rightarrow B=1 \end{cases}$$

En consecuencia:

$$\int \frac{1}{x^2-x} \cdot dx = \int \frac{-1}{x} \cdot dx + \int \frac{1}{x-1} \cdot dx = -\int \frac{1}{x} \cdot dx + \int \frac{1}{x-1} \cdot dx \stackrel{2}{=} -\ln|x| + \ln|x-1| + C$$

Comprobación:

$$(-\ln|x| + \ln|x-1|)' = -\frac{1}{x} + \frac{1}{x-1} = \frac{-(x-1)+x}{x(x-1)} = \frac{-x+1+x}{x^2-x} = \frac{1}{x^2-x}$$

b)

$$\int x \cdot \text{sen}(2x) \cdot dx \stackrel{3}{=} -\frac{1}{2} \cdot x \cdot \cos(2x) + \frac{1}{4} \cdot \text{sen}(2x) + C$$

S	D	I
+	x	sen(2x)
-	1	$-\frac{1}{2} \cdot \cos(2x)$
+	0	$-\frac{1}{4} \cdot \text{sen}(2x)$

Comprobación:

$$\left(-\frac{1}{2} \cdot x \cdot \cos(2x) + \frac{1}{4} \cdot \text{sen}(2x)\right)' = -\frac{1}{2} \cdot \cos(2x) - \frac{1}{2} \cdot x \cdot [-\text{sen}(2x)] \cdot 2 + \frac{1}{4} \cdot \cos(2x) \cdot 2 =$$

$$= -\frac{1}{2} \cdot \cos(2x) + x \cdot \text{sen}(2x) + \frac{1}{2} \cdot \cos(2x) = x \cdot \text{sen}(2x)$$

¹ Aplicamos el método de descomposición en fracciones simples.

² Se trata de integrales de tipo logaritmo, la primera inmediata y la segunda casi inmediata. Si se desea, puede simplificarse el resultado final agrupando los sumandos mediante las propiedades de los logaritmos

³ Esta integral se hace por partes. Las integrales efectuadas en la columna I son casi inmediatas de tipo seno y coseno. Se puede simplificar el cálculo de estas integrales si antes de aplicar el método de integración por partes se hace el cambio de variable $2x=t$.

JUNIO DE 2014. PROBLEMA A4.

Dada la función $f(x)$ demuestra que existe un valor $\alpha \in (1,2)$ tal que $f'(\alpha)=1$. Menciona el resultado teórico empleado y justifica su uso:

$$f(x) = \operatorname{tg}\left(\frac{\pi}{12} + \frac{\pi}{6x}\right) + \frac{2}{\sqrt{17-2x-3x^2}}$$

Ayuda: $\operatorname{tg}(\pi/4)=1$, $\operatorname{tg}(\pi/6)=1/\sqrt{3}$.

(3 PUNTOS)

Derivamos la función:

$$\begin{aligned} f'(x) &= \frac{-6\pi}{36x^2} \cdot \left[1 + \operatorname{tg}^2\left(\frac{\pi}{12} + \frac{\pi}{6x}\right)\right] + \frac{-2 \cdot \frac{-2-6x}{2 \cdot \sqrt{17-2x-3x^2}}}{17-2x-3x^2} = \\ &= \frac{-\pi}{6x^2} \cdot \left[1 + \operatorname{tg}^2\left(\frac{\pi}{12} + \frac{\pi}{6x}\right)\right] + \frac{2+6x}{(17-2x-3x^2) \cdot \sqrt{17-2x-3x^2}} \end{aligned}$$

Por tanto, $\operatorname{Dom}(f) = \operatorname{Dom}(f')$. Se trata del intervalo $(-2,73\dots; 2,07\dots)$, excepto $x=0$ y $x=2/(5+12k)$, con $k \in \mathbb{Z}$. En efecto:¹

$$3x^2 + 2x - 17 = 0 \Rightarrow x = \frac{-2 \pm \sqrt{4+204}}{6} = \frac{-2 \pm 4\sqrt{13}}{6} = \frac{-1 \pm 2\sqrt{13}}{3} \Rightarrow \begin{cases} x = -2,73\dots \\ x = 2,07\dots \end{cases}$$

$$\frac{\pi}{12} + \frac{\pi}{6x} = \frac{\pi}{2} + k\pi \xrightarrow{2} x+2 = 6x+12kx \Rightarrow 2 = (5+12k)x \Rightarrow x = \frac{2}{5+12k}$$

Como el mayor de estos valores, que se obtiene para $k=0$, es $2/5$, resulta que $[1,2] \subset (2/5; 2,07\dots) \subset \operatorname{Dom}(f') = \operatorname{Dom}(f)$.

* * *

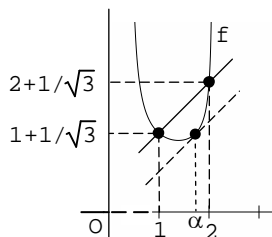
Como la función f satisface las condiciones del **teorema de Lagrange**,³ existe α en el intervalo abierto $(1,2)$ tal que:⁴

$$\begin{aligned} f'(\alpha) &= \frac{f(2) - f(1)}{2-1} = \left[\operatorname{tg}\left(\frac{\pi}{12} + \frac{\pi}{12}\right) + \frac{2}{1} \right] - \left[\operatorname{tg}\left(\frac{\pi}{12} + \frac{\pi}{6}\right) + \frac{2}{\sqrt{12}} \right] = \\ &= \operatorname{tg}\frac{\pi}{6} + 2 - \operatorname{tg}\frac{\pi}{4} - \frac{2}{2 \cdot \sqrt{3}} = \frac{1}{\sqrt{3}} + 2 - 1 - \frac{1}{\sqrt{3}} = 1 \end{aligned}$$

En efecto:

1ª) f es continua en el cerrado $[1,2]$ por ser derivable en $\operatorname{Dom}(f)$.

2ª) f es derivable en el abierto $(1,2)$ por serlo en $\operatorname{Dom}(f)$.



¹ El radicando debe ser positivo, x debe ser distinto de 0 y el ángulo debe pertenecer al dominio de la tangente.

² Multiplicamos los dos miembros de la ecuación por $12x/\pi$.

³ También podría hacerse el problema probando que la función f' cumple las condiciones de la **propiedad de Darboux** o que la función $g(x) = f'(x) - 1$ cumple las del **teorema de Bolzano** o que la función $g(x) = f'(x) - x$ cumple las del **teorema de Rolle**.

⁴ Este cálculo es el que habría que hacer en primer lugar para ver si se puede o no aplicar el teorema de Lagrange.

JUNIO DE 2014. PROBLEMA B1.Dada la matriz A, encuentra todas las matrices B que cumplen $ABA=A$:

$$A = \begin{pmatrix} 1 & -1 & 0 \\ 0 & 0 & 1 \end{pmatrix}$$

(2 puntos)

Evidentemente, B es una matriz de orden 3×2 :

$$B = \begin{pmatrix} x & u \\ y & v \\ z & w \end{pmatrix}$$

Por tanto:

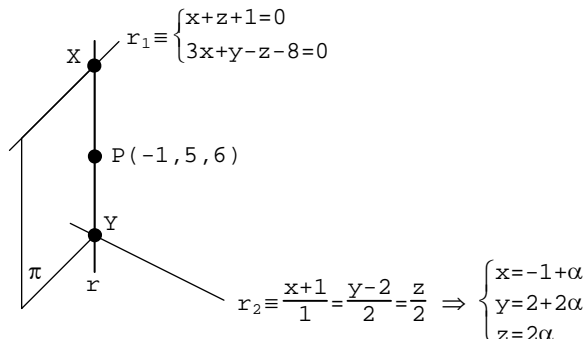
$$\begin{aligned} ABA=B &\Rightarrow \begin{pmatrix} 1 & -1 & 0 \\ 0 & 0 & 1 \end{pmatrix} \cdot \begin{pmatrix} x & u \\ y & v \\ z & w \end{pmatrix} \cdot \begin{pmatrix} 1 & -1 & 0 \\ 0 & 0 & 1 \end{pmatrix} = \begin{pmatrix} 1 & -1 & 0 \\ 0 & 0 & 1 \end{pmatrix} \Rightarrow \\ &\Rightarrow \begin{pmatrix} x-y & u-v \\ z & w \end{pmatrix} \cdot \begin{pmatrix} 1 & -1 & 0 \\ 0 & 0 & 1 \end{pmatrix} = \begin{pmatrix} 1 & -1 & 0 \\ 0 & 0 & 1 \end{pmatrix} \Rightarrow \\ &\Rightarrow \begin{pmatrix} x-y & y-x & u-v \\ z & -z & w \end{pmatrix} = \begin{pmatrix} 1 & -1 & 0 \\ 0 & 0 & 1 \end{pmatrix} \Rightarrow \\ &\Rightarrow \begin{cases} x-y=1 \\ y-x=-1 \\ u-v=0 \\ z=0 \\ -z=0 \\ w=1 \end{cases} \Rightarrow \begin{cases} x=1+y \\ u=v \\ z=0 \\ w=1 \end{cases} \Rightarrow \begin{cases} x=1+\alpha \\ y=\alpha \\ z=0 \\ u=\beta \\ v=\beta \\ w=1 \end{cases} \Rightarrow B = \begin{pmatrix} 1+\alpha & \beta \\ \alpha & \beta \\ 0 & 1 \end{pmatrix} \end{aligned}$$

JUNIO DE 2014. PROBLEMA B2.

Encuentra la ecuación continua de la recta r que pasa por el punto $P(-1,5,6)$ y corta a las rectas:

$$r_1 \equiv \begin{cases} x+z+1=0 \\ 3x+y-z-8=0 \end{cases} \quad y \quad r_2 \equiv \frac{x+1}{1} = \frac{y-2}{2} = \frac{z}{2} \quad (3 \text{ PUNTOS})$$

Sean X e Y los puntos de corte de la recta r con r_1 y r_2 , respectivamente:¹



El punto P y la recta r_1 determinan el plano π . Como este plano pertenece al haz de planos de arista la recta r_1 , tiene por ecuación:²

$$\pi \equiv a(x+z+1) + b(3x+y-z-8) = 0$$

Como el punto $P(-1,5,6)$ está en el plano π , satisface su ecuación:

$$\begin{aligned} a(-1+6+1) + b(-3+5-6-8) &= 0 \Rightarrow 6a - 12b = 0 \Rightarrow a = 2b \Rightarrow \\ \Rightarrow 2b(x+z+1) + b(3x+y-z-8) &= 0 \Rightarrow b(2x+2z+2+3x+y-z-8) = 0 \stackrel{3}{\Rightarrow} \\ \Rightarrow \pi &\equiv 5x+y+z-6=0 \end{aligned}$$

Como el punto Y está en la recta r_2 :

$$Y(-1+\alpha, 2+2\alpha, 2\alpha)$$

Como el punto Y está en el plano π , satisface su ecuación:

$$\begin{aligned} 5(-1+\alpha) + 2 + 2\alpha + 2\alpha - 6 &= 0 \Rightarrow -5 + 5\alpha + 2 + 2\alpha + 2\alpha - 6 = 0 \Rightarrow 9\alpha = 9 \Rightarrow \alpha = 1 \Rightarrow \\ \Rightarrow Y(0, 4, 2) \Rightarrow \vec{[PY]} &= (1, -1, -4) \Rightarrow r \equiv \frac{x+1}{1} = \frac{y-5}{-1} = \frac{z-6}{-4} \end{aligned}$$

¹ Otras formas de hacer este ejercicio pueden verse, por ejemplo, en el problema B2 del examen de selectividad de junio de 2007.

² Otra forma de obtener la ecuación de este plano consiste en hallar un punto y un vector direccional de la recta r_1 .

³ Ya que $b \neq 0$. Si $b=0$, entonces $a=0$; pero a y b no pueden ser simultáneamente nulos.

JUNIO DE 2014. PROBLEMA B3.

Dada la función $f(x)$, demuestra que existe un valor $\alpha \in (-2,1)$ tal que $f'(\alpha)=0$. Menciona el resultado teórico empleado y justifica su uso:

$$f(x) = \frac{\cos(x^3+2x^2+3x)}{\sqrt{x^2+x+2}} \quad (2 \text{ PUNTOS})$$

El dominio de la función f es \mathbb{R} :

$$x^2+x+2=0 \Rightarrow x = \frac{-1 \pm \sqrt{1-8}}{2}$$

Derivamos la función f :

$$\begin{aligned} f'(x) &= \frac{-(3x^2+4x+3)\sin(x^3+2x^2+3x) \cdot \sqrt{x^2+x+2} - \cos(x^3+2x^2+3x) \cdot \frac{2x+1}{2 \cdot \sqrt{x^2+x+2}}}{x^2+x+2} = \\ &= \frac{-2(3x^2+4x+3)(x^2+x+2)\sin(x^3+2x^2+3x) - (2x+1) \cdot \cos(x^3+2x^2+3x)}{2 \cdot (x^2+x+2) \cdot \sqrt{x^2+x+2}} \end{aligned}$$

Por tanto, $\text{Dom}(f') = \text{Dom}(f) = \mathbb{R}$.

* * *

Como la función f satisface las condiciones del **teorema de Rolle**,¹ existe α en $(-2,1)$ tal que $f'(\alpha)=0$.

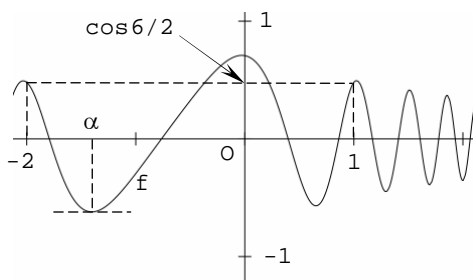
En efecto:

1ª) $f(-2)=f(1)$:

- $f(-2) = \frac{\cos(-8+8-6)}{\sqrt{4-2+2}} = \frac{\cos(-6)}{2} = \frac{\cos 6}{2}$
- $f(1) = \frac{\cos(1+2+3)}{\sqrt{1+1+2}} = \frac{\cos 6}{2}$

2ª) f es continua en $[-2,1]$ por ser derivable en \mathbb{R} .

3ª) f es derivable en $(-2,1)$ por serlo en \mathbb{R} .



¹ También podría hacerse el problema probando que la función f' cumple las condiciones del **teorema de Bolzano**.

JUNIO DE 2014. PROBLEMA B4.

Dada la función $f(x)$, encuentra los dos puntos en que corta al eje de abscisas. Calcula el área de cada una de las dos regiones en que divide esa curva al círculo de centro $(0,0)$ y radio 2:

$$f(x) = 1 - \frac{1}{4} \cdot x^2$$

(3 PUNTOS)

1º) Hallamos los puntos de corte de la gráfica de la función y el eje de abscisas:

$$\begin{cases} y = 1 - x^2/4 \\ y = 0 \end{cases} \Rightarrow 1 - \frac{x^2}{4} = 0 \Rightarrow \frac{x^2}{4} = 1 \Rightarrow x^2 = 4 \Rightarrow x = \pm 2$$

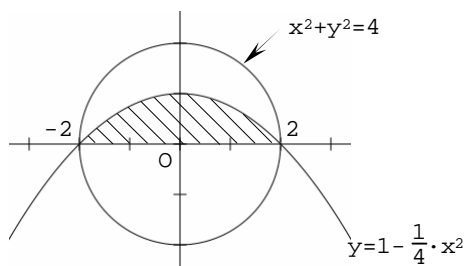
2º) Como los puntos de corte de la parábola y el círculo son los mismos, calculamos el área comprendida entre la gráfica de la función y el eje de abscisas:¹

$$\begin{aligned} A &= \int_{-2}^2 \left(1 - \frac{1}{4} \cdot x^2\right) \cdot dx \stackrel{2}{=} \left[x - \frac{1}{4} \cdot \frac{x^3}{3} \right]_{-2}^2 = \left[x - \frac{x^3}{12} \right]_{-2}^2 = \\ &= \left(2 - \frac{8}{12}\right) - \left(-2 + \frac{8}{12}\right) = \left(2 - \frac{2}{3}\right) + \left(2 - \frac{2}{3}\right) = \frac{8}{3} \end{aligned}$$

3º) Como el área del círculo es 4π , las áreas de las dos regiones son las siguientes:

$$A_1 = 2\pi - \frac{8}{3}$$

$$A_2 = 2\pi + \frac{8}{3}$$



¹ Si se observa la simetría, puede reducirse el cálculo a la integral entre 0 y 2, multiplicando luego por 2 el resultado.

² Como el cálculo de una primitiva es trivial, lo hacemos directamente.